


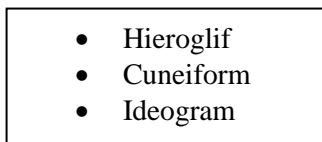
- 1 Rajah di bawah berkaitan dengan perkembangan petempatan awal tamadun Mesopotamia



Rajah 1

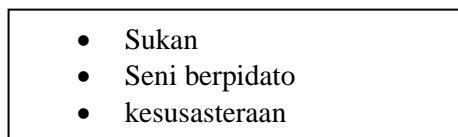
Apakah faktor asas yang membawa kepada perkembangan tersebut?

- A Kekayaan hasil galian
 - B Kekuatan angkatan tentera
 - C Kemajuan aktiviti pertanian
 - D Kesetiaan rakyat terhadap raja
- 2 Perkara berikut berkaitan dengan sistem tulisan awal yang diperkenalkan di dunia.



Apakah peranan sistem tulisan tersebut?

- A Menyebarkan ilmu pengetahuan
 - B Mempertingkatkan taraf kehidupan
 - C Meluaskan kegiatan perdagangan
 - D Membasmi buta huruf
- 3 Apakah kesan kemajuan ilmu astronomi dan matematik kepada masyarakat Mesir Purba?
- A Penggunaan roda
 - B Penciptaan kalendar
 - C Kemajuan ilmu pelayaran
 - D Kewujudan bandar terancang
- 4 Mengapakah bidang berikut diberi penekanan dalam pendidikan di Athens?



- A Menanam sikap keberanian
- B Melahirkan individu seimbang
- C Melatih pemimpin berwibawa
- D Mengukuhkan semangat patriotisme

- 5 Maklumat di bawah merujuk kepada pemerintah tamadun India.

Tamadun	Tokoh
India	Chandragupta Maurya

Bagaimanakah tokoh di atas melaksanakan dasar perluasan empayar?

- A Melalui penyebaran agama Buddha
 B Menyerang kerajaan pusat
 C Menyatukan kerajaan-kerajaan kecil
 D Melantik wakil pemerintah di kawasan taklukan
- 6 Maklumat berikut menerangkan kerajaan awal di Asia Tenggara yang terkenal

- | |
|---|
| <ul style="list-style-type: none"> • Srivijaya terletak di Selat Sunda • Kedah Tua terletak di Selat Melaka |
|---|

Apakah keistimewaan kerajaan tersebut?

- A Pusat kegiatan ilmu
 B Kubu pertahanan yang kuat
 C Laluan perdagangan India dan China
 D Kawasan kegiatan pertanian yang utama
- 7 Apakah peranan golongan Brahmin dalam sistem pemerintahan kerajaan awal di Asia Tenggara?
- A Mengetuai upacara keagamaan
 B Menjaga keamanan dalam negara
 C Menggubal undang-undang bertulis
 D Memutuskan jenis hukuman terhadap pesalah
- 8 Peristiwa berikut melibatkan Nabi Muhammad SAW yang dilantik sebagai hakim.

Peristiwa perletakan HajarAswad ke tempat asalnya di penjuru Timur Kaabah.
--

Apakah kesan peristiwa berkenaan?

- A. Pembahagian kuasa pemimpin
 B. Persengketaan antara kabilah diatasi
 C. Peperangan antara kabilah tercetus
 D. Pembukaan semula Kota Makkah

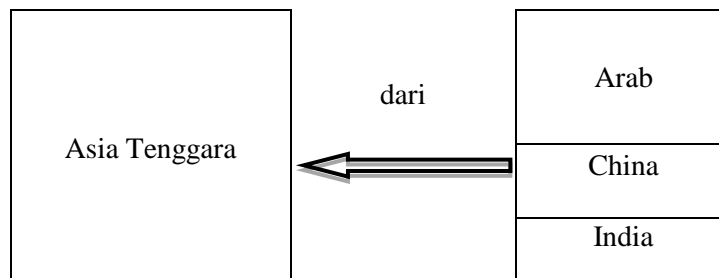
- 9 Mengapakah Nabi Muhammad SAW tidak turut berhijrah ke Habsyah?
- I Nabi tidak mendapat jemputan daripada penduduk Habsyah
 - II Pemuluan oleh penduduk Habsyah terhadap keluarga Nabi
 - III Menjaga keselamatan umat Islam yang tidak berhijrah
 - IV Memberi tumpuan kepada penyebaran Islam di Makkah
- A I dan II
 - B I dan IV
 - C II dan III
 - D III dan IV
- 10 Mengapakah Nabi Muhammad SAW menerima syarat Perjanjian Hudaibiyah walaupun kandungannya lebih memihak kepada Quraisy Makkah?
- A Taktik untuk menyerang Makkah
 - B Strategi untuk menyebarkan Islam
 - C Usaha untuk menawan orang Quraisy
 - D Cara untuk mengelakkan peperangan
- 11 Maklumat berikut berkaitan dengan kepentingan hijrah Nabi Muhammad SAW ke Madinah.
- Menjalin hubungan persaudaraan
 - Mewujudkan perpaduan dalam kalangan masyarakat
- Bagaimanakah Nabi Muhammad SAW memastikan kedua-dua kepentingan tersebut dicapai?
- A Melantik gabenor sebagai pentadbir
 - B Menubuhkan pasukan tentera tetap
 - C Menggubal perlembagaan negara
 - D Menyatukan wilayah-wilayah kecil
- 12 Pada zaman pemerintahan Khulafa al-Rasyidin seseorang khalifah dilantik melalui syura.
- Apakah kebaikannya?
- A Meneruskan tradisi orang Arab
 - B Mendapat sokongan orang bukan Arab
 - C Menjamin pemilihan pemimpin berkelayakan
 - D Membantu kesinambungan pemerintahan

- 13 Maklumat di bawah berkaitan dengan tindakan pemerintah di Eropah pada masa empayar Turki Uthmaniyah berkembang.

Maharaja John VI Cantacuzens menjalinkan perjanjian dengan Orhan dari kerajaan Turki Uthmaniyah

Apakah kesan tindakan Maharaja ini?

- A Menguasai pemerintahan kerajaan Islam
 B Mendapat perlindungan daripada ancaman Parsi
 C Memperolehi perlindungan masyarakat Kristian
 D Memudahkan perluasan Islam di Eropah
- 14 Mengapakah sistem hijabah yang diperkenalkan pada zaman Bani Umayyah sesuai diamalkan pada masa kini?
- A Menjamin keselamatan pemimpin
 B Memperkukuhkan pertahanan negara
 C Memacu perkembangan ekonomi
 D Memupuk perpaduan rakyat
- 15 Rajah berikut merujuk teori kedatangan Islam ke Asia Tenggara



Rajah 2

Apakah persamaan ketiga-tiga teori di atas?

- A Dilakukan melalui usaha penaklukan
 B Disebarkan melalui kegiatan perdagangan
 C Raja menjadi penyebar utama dalam negaranya
 D Peranan mubaligh dan ahli sufi sebagai penyebar utama

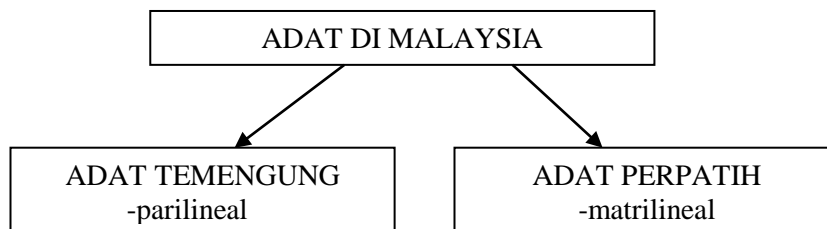
16 Selepas kedatangan Islam, sistem politik di Asia Tenggara mengalami perubahan.

Apakah perubahan tersebut?

- I Institusi kesultanan diperkenalkan
- II Islam dijadikan asas perundangan
- III Jawatan pembesar dilantik secara warisan
- IV Sistem raja berkuasa mutlak diamalkan

- A I dan II
- B I dan IV
- C II dan III
- D III dan IV

17 Rajah berikut merujuk undang-undang tidak bertulis, juga dikenali sebagai adat



Rajah 3

Mengapakah Adat perpatih dianggap bersifat matrilineal?

- A Nasab keturunan lebih mengutamakan jurai keturunan ibu
- B Semua hukuman berbentuk denda dan ganti rugi berupa harta
- C Anak lelaki diberi hak mewarisi harta pusaka
- D Peraturan tidak wujud secara bertulis

18 Apakah aspek persamaan antara ketiga-tiga kesenian berikut?

- Nazam atau naban
- Seni Dikir
- Ghazal

- A Kesenian yang memuji raja
- B Nyanyian yang menerima pengaruh Islam
- C Dimainkan oleh golongan perempuan sahaja
- D Seni kata lagu menggunakan bahasa arab sepenuhnya

19

Sistem feodal yang diamalkan pada awal Zaman Pertengahan di Eropah mempunyai persamaan dengan sistem feodal yang diamalkan dalam masyarakat Melayu tradisional.

Apakah persamaan tersebut?

- A Raja pemilik tanah secara mutlak
- B Golongan agama menerajui pentadbiran
- C Petani berpeluang meningkatkan status sosial
- D Rakyat berhak memilih pemerintah

20

Revolusi Perindustrian tercetus di negara Britain dan meninggalkan pelbagai kesan dalam aspek ekonomi dan sosial

Apakah sumbangan besar Revolusi Pertanian terhadap perkembangan Revolusi Perindustrian di Eropah?

- I Kemunculan golongan buruh dan majikan
 - II Eksploitasi ke atas negara yang lemah
 - III Penyediaan modal
 - IV Bahan makanan
- A I dan II
 - B I dan IV
 - C II dan III
 - D III dan IV


21

Pak Embong dianggap melakukan kesalahan oleh pihak pentadbiran British kerana menanam getah di kawasan tanah sawah

Berdasarkan pernyataan di atas, Pak Embong telah melakukan kesalahan di bawah

- A Enakmen tanah Padi
- B Enakmen tanah Getah
- C Akta Tanah Persekutuan
- D Akta Tanah Simpanan Melayu

- 22 Apakah kesan yang timbul daripada sistem pendidikan vernakular pada zaman penjajahan di Tanah Melayu?
- A Ramai penduduk menjadi golongan intelektual
 B Menimbulkan semangat kebencian pada penjajah
 C Penduduk tempatan berkhidmat sebagai pegawai tadbir
 D Kesukaran mewujudkan semangat perpaduan nasional
- 23 Antara yang berikut, yang manakah mencetuskan semangat nasionalisme di Asia Tenggara?
- A Perang Rusia-Jepun
 B Perang Dingin di Eropah
 C Perjuangan golongan Luddite
 D Perjuangan Parti Komunis Malaya
- 24 Setiap nasionalis pasti akan memperjuangkan kebebasan negaranya daripada cengkaman penjajah asing.
- Apakah faktor kejayaan perjuangan para nasionalis tersebut?
- A Bantuan golongan bangsawan
 B Perpaduan penduduk peribumi
 C Kerjasama dengan kuasa asing
 D Penguatan pemerintahan tradisional
- 25 Rajah berikut menerangkan perubahan jawatan Tok Janggut di Kelantan.



Rajah 4

- Apakah peristiwa yang menyebabkan perubahan tersebut ?
- A Pembunuhan Penasihat British
 B Perluasan kuasa British
 C Pengunduran tentera Siam
 D Penawanan Pasir Puteh

26 Bagaimanakah British menghalang Gerakan Islah di Negeri-Negeri Melayu pada awal abad ke-20?

- I Mengugut pemimpin
- II Menyekat kegiatan dakwah
- III Menghalang kemasukan risalah
- IV Menyekat peluang belajar ke luar negara

- A I dan II
- B I dan IV
- C II dan III
- D III dan IV

27 Apakah yang menentukan sempadan kerajaan yang diperintah oleh raja dalam masyarakat Melayu Tradisional?

- A Keluasan tanah jajahan
- B Kebijaksanaan raja memerintah
- C Kebajikan yang disediakan kerajaan
- D Kesetiaan rakyat terhadap raja

28

Alam beraja
Luak berpenghulu
Suku berlembaga
Anak buah berbuapak

Apakah perkara yang dapat dikaitkan dengan perbilangan adat yang diamalkan oleh masyarakat Negeri Sembilan?

- A Penggubalan undang-undang
- B Pembentukan wilayah
- C Perpaduan masyarakat
- D Pemilihan pemimpin

29 Apakah peranan Gabenor Malayan Union yang dianggap mencabar kedudukan agama Islam?

- A Mengistiharkan tarikh perayaan
- B Mengawal kegiatan di masjid
- C Memungut zakat dan fitrah
- D Mengurus harta pusaka

- 30 Dialog berikut mungkin berlaku di Tanah Melayu tahun 1946 berkaitan reaksi terhadap Malayan Union

Sultan Kedah : Beta diugut oleh Sir Harold Mac Michael
Pembesar : Bagaimanakah tuanku diugut?

Bagaimanakah Sir Harold Mac Michael mengugut Sultan Kedah jika baginda enggan menerima Malayan Union?

- A Dibuang negeri
 B Diturunkan tahta
 C Menjajah negeri
 D Melucutkan jawatan pembesar
- 31 Mengapakah penubuhan Jawatakuasa Hubungan Antara Kaum (CLC) dianggap titik permulaan kerjasama kaum di Persekutuan Tanah Melayu?
- A Gabungan semua parti politik membentuk Parti Perikatan
 B Sokongan pihak British untuk memberi kemerdekaan segera
 C Persetujuan membentuk satu parti mewakili semua kaum
 D Kesanggupan UMNO untuk berunding dengan kaum lain
- 32 Jadual berikut menunjukkan keputusan Pilihanraya Majlis Perundangan Persekutuan 1955.

Pilihanraya Majlis Perundangan Persekutuan 1955	
Parti bertanding	Jumlah kerusi dimenangi
Parti Perikatan	51
PAS	1

Jadual 1

Apakah faktor kemenangan Parti Perikatan?

- A Matlamat manifesto jelas
 B Mempunyai sumber kewangan
 C Memperjuangkan persamaan hak
 D Mengadakan kerjasama dengan penjajah
- 33 Idea Pembentukan Malaysia telah dikemukakan sejak awal abad ke-19.

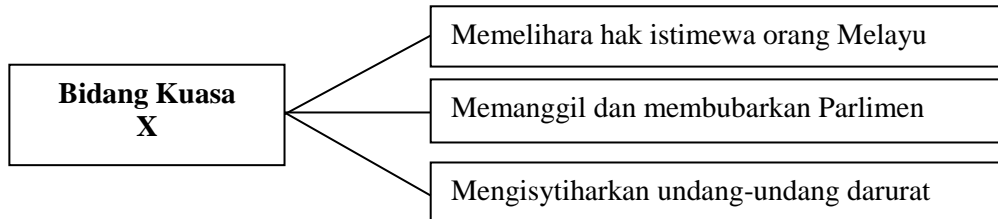
Mengapakah idea tersebut dipersetujui British?

- A Mengurangkan kuasa Raja-raja
 B Penyatuan pentadbiran tanah jajahan
 C Menghapuskan pengaruh komunis
 D Mengehadkan kemasukan imigran

34 Peranan Suruhanjaya Cobbold dalam menjayakan pembentukan Malaysia ialah

- A memujuk Singapura menyertai persekutuan.
- B menggalakkan penubuhan Parti Perikatan.
- C melaksanakan sistem Birokrasi Barat.
- D meninjau pendapat rakyat Sabah dan Sarawak.

35



Rajah 5

Rajah di atas merujuk kepada bidang kuasa mengikut Perlembagaan Malaysia.

Apakah X ?

- A Dewan Negara
 - B Dewan Rakyat
 - C Yang di-Pertuan Agong
 - D Majlis Raja-Raja Melayu
- 36 Malaysia ialah sebuah negara persekutuan yang mengamalkan sistem pengagihan kuasa pentadbiran seperti Senarai Persekutuan, Senarai Negeri dan Senarai Bersama.
- Antara berikut yang manakah termaktub dalam Senarai Bersama?
- A Tanah
 - B Pelajaran
 - C Pertahanan
 - D Hiburan Awam
- 37 Apakah perkara yang menjadi asas untuk menyuburkan semangat perpaduan negara dalam Penyata Razak 1956?
- A Sistem persekolahan yang seragam
 - B Bahasa Melayu sebagai bahasa pengantar
 - C Persekolahan percuma di peringkat rendah
 - D Sekolah umum dijadikan sekolah kebangsaan

- 38 Dasar di bawah menggambarkan keprihatinan kerajaan dalam mewujudkan masyarakat yang maju dan berdaya saing

X
<ul style="list-style-type: none"> • Merapatkan jurang ekonomi • Membasmi kemiskinan tanpa mengira kaum • Menghapuskan identiti kaum mengikut fungsi ekonomi

X ialah

- A Wawasan 2020
 B Dasar Ekonomi Baru
 C Dasar Pembangunan Nasional
 D Rancangan Pembangunan Lima Tahun
- 39 **Pergerakan Negara-Negara Berkecuali (NAM)**
 Ditubuhkan pada bulan September 1961.
 Dianggotai oleh negara di Asia, Afrika dan Amerika Selatan.
- Antara berikut yang manakah berkaitan dengan pergerakan di atas?
- I Mengekalkan keamanan dunia
 II Menggalakkan kerjasama teknologi
 III Mengukuhkan kerjasama pertahanan
 IV Mengeratkan hubungan negara anggota
- A I dan II
 B I dan IV
 C II dan III
 D III dan IV
- 40 Malaysia menentang dasar Apartheid yang diamalkan oleh Afrika Selatan.
- Apakah tindakan Malaysia terhadap negara tersebut?
- A Menamatkan perlindungan politik
 B Menghalang perhubungan perdagangan
 C Memutuskan hubungan diplomatik
 D Menyekat bantuan kemanusiaan

KERTAS SOALAN TAMAT