



UNIT PEPERIKSAAN DAN PENILAIAN
SMK SERI RAUB
27600 RAUB. PAHANG

PEPERIKSAAN PERCUBAAN SPM 2018
SEJARAH
Kertas 1
OGOS
1 jam

1249/1

Satu jam

JANGAN BUKA KERTAS PEPERIKSAAN INI SEHINGGA DIBERITAHU

1. *Kertas peperiksaan ini mengandungi 40 soalan.*
2. *Jawab semua soalan.*
3. *Tiap-tiap soalan diikuti empat pilihan jawapan iaitu **A,B ,C** dan **D**. Bagi setiap soalan, pilih **SATU** jawapan sahaja. Hitamkan jawapan anda pada kertas jawapan objektif yang disediakan.*
4. *Jika anda hendak menukar jawapan, padamkan tanda yang telah dibuat. Kemudian hitamkan jawpaan yang baharu.*

Disediakan oleh :

:

Disemakkan oleh :

(PN.HANITA BINTI AHMAD)
Ketua Bidang Kemanusiaan

(EN. MOHD HANAPIAH BIN ABD. AZIZ)
PK Pentadbiran SEMESRA

Kertas peperiksaan ini mengandungi 15 halaman bercetak dan 1 halaman tidak bercetak.

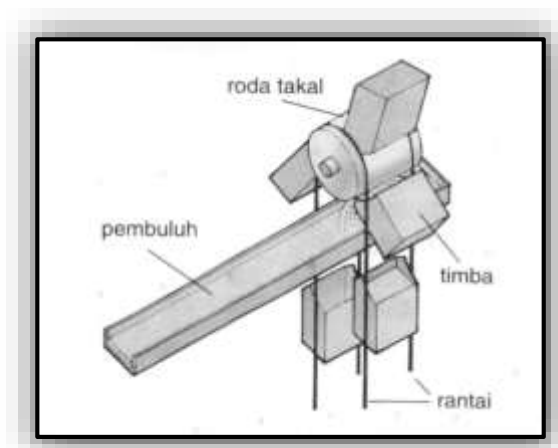
[Lihat halaman sebelah

- 1 Dalam karyanya *Muqaddimah*, Ibn Khaldun menekankan ciri kehidupan bandar yang bertamadun.

Apakah ciri kehidupan tersebut ?

- A Kebebasan beragama
- B Kesejahteraan hidup
- C Kemajuan ekonomi
- D Ketinggian moral

- 2 Gambar berikut merujuk kepada peralatan yang dicipta oleh masyarakat Mesopotamia yang membolehkan mereka mengawal banjir.



Kinci Air

Mengapakah masyarakat tersebut berjaya mencipta peralatan tersebut ?

- A Kemajuan sistem tulisan
- B Penciptaan roda
- C Penggubalan undang-undang
- D Pengamalan pemerintahan teokrasi

- 3 Apakah persamaan sistem demokrasi yang diamalkan di Yunani dengan sistem demokrasi yang diamalkan pada masa kini ?

- A Penglibatan rakyat dalam pembentukan kerajaan
- B Golongan agama menjadi penasihat pemerintah
- C Pilihan raya diadakan setiap lima tahun
- D Raja menjadi ketua pentadbir negara

- 4 Penganut agama Hindu berusaha untuk mencapai moksha. Mereka berbuat demikian supaya
- A dilahirkan semula
 - B diberi pengampunan
 - C dimasukkan ke syurga
 - D disatukan dengan tuhan
- 5 Mengapakah kerajaan Funan berkembang daripada kerajaan agraria kepada kerajaan maritim ?
- A Kekayaan hasil laut
 - B Peningkatan hasil pertanian
 - C Perubahan dasar pemerintahan
 - D Kedudukan Oc-Eo yang strategik
- 6 Maklumat berikut berkaitan dengan kemahiran masyarakat kerajaan maritim.

- | |
|--|
| <ul style="list-style-type: none">• Mahir membina kapal layar• Mengetahui kaedah menuju ke sesuatu tempat berpandukan bintang |
|--|

Apakah kesan kemahiran tersebut kepada kerajaan maritim ?

- A Pengukuhan kedudukan pemerintah
 - B Penglibatan aktiviti perdagangan
 - C Peningkatan daya intelektual
 - D Pemantapan pertahanan laut
- 7 Maklumat berikut merujuk kepada peperangan yang berlaku dalam kalangan masyarakat Arab pada zaman jahiliah.

Perang al-Basus

- | |
|---|
| <ul style="list-style-type: none">• Berlaku antara Bani Taghlib dengan Bani Bakar• Berlangsung selama 40 tahun |
|---|

Mengapakah perang tersebut berlarutan selama 40 tahun ?

- A Kerajaan pusat tiada
- B Hasutan kerajaan Parsi
- C Kawasan pertanian terhad

D Campur tangan orang Yahudi

[Lihat halaman sebelah

- 8 Nabi Muhammad SAW diamanahkan oleh pemimpin Arab Quraisy untuk meletakkan Hajar Aswad ke tempat asalnya.

Apakah kepentingan peristiwa tersebut kepada masyarakat Arab ?

- A Perbalahan kaum dielakkan
- B Penyebaran Islam di Makkah
- C Perkembangan perdagangan di Makkah
- D Pelantikan pemimpin dari kalangan orang Islam

- 9 Maklumat berikut berkaitan dengan kepentingan hijrah Nabi Muhammad SAW ke Madinah.

- Menjalin hubungan persaudaraan
- Mewujudkan perpaduan dalam kalangan masyarakat

Bagaimanakah Nabi Muhammad SAW bertindak untuk memastikan kedua-dua kepentingan hijrah tersebut menjadi kenyataan ?

- A Melantik gabenor sebagai pentadbir
- B Menyatukan wilayah-wilayah kecil
- C Menubuhkan pasukan tentera tetap
- D Menggubal perlembagaan negara

- 10 Kota Makkah dibuka semula oleh Nabi Muhammad SAW pada tahun 630 Masihi. Mengapakah Kota Makkah berjaya dibuka semula dengan mudah ?

- A Pembebasan golongan hamba
- B Pemuluan keluarga Bani Hashim
- C Pencabulan syarat Perjanjian Hudaibiyah
- D Pertelingkahan antara suku Aus dengan suku Khazraj

- 11 Senarai berikut berkaitan dengan konsep politik dalam sistem pemerintahan Islam

<ul style="list-style-type: none"> • Musyawarah • Syura • Baiah
--

Apakah kepentingan amalan konsep tersebut terhadap sesebuah negara?

- I Melahirkan pemimpin berwibawa
 II Memperkukuh sistem berkuasa mutlak
 III Mengehendkan kuasa pentadbir wilayah
 IV Memperkuat ikatan rakyat dengan pemimpin
- A I dan II
 B I dan IV
 C II dan III
 D III dan IV

- 12 Maklumat berikut berkaitan istilah yang digunakan dalam kerajaan islam.

Istilah	Maksud
Mudejar	Orang Islam setempat tinggal dalam kawasan pemerintahan orang Kristian
Mozarab	Orang tempatan yang beragama Kristian yang mengamalkan kebudayaan Islam.

Apakah kesimpulan yang dapat dibuat?

- A Kebudayaan Islam mempengaruhi kehidupan masyarakat
 B Bahasa Arab digunakan oleh sebahagian masyarakat
 C Perkembangan ilmu pengetahuan meluas di Eropah
 D Perluasan kawasan penaklukan Islam

[Lihat halaman sebelah

- 13 Tokoh berikut memainkan peranan penting membantu Melaka menyebarkan Islam di Asia Tenggara.

Tokoh	Negeri
Bendahara Tun Perak	Melaka

Bagaimanakah beliau melaksanakannya?

- A Menyertai para ulama
 - B Menjalankan perluasan kuasa
 - C Menghasikan kitab ilmu tasawuf
 - D Mengislamkan golongan pemerintah
- 14 Maklumat berikut berkaitan kesan kedatangan islam ke Asia Tenggara

Kedatangan Islam ke Asia Tenggara telah mengubah sistem ekonomi.

Apakah bukti pernyataan di atas?

- I Amalan penindasan ditolak
 - II Ekonomi dikuasai pemerintah
 - III Golongan pembesar diketepikan
 - IV Unsur halal haram amat mustahak
- A I dan II
 - B I dan IV
 - C II dan III
 - D III dan IV
- 15 Konsep daulat merupakan pengikat yang kuat antara rakyat biasa dengan pemerintah dalam masyarakat Melayu tradisonal.

Bagaimanakah konsep tersebut diperkukuh ?

- A Melalui pendidikan formal
- B Menggunakan kekuatan tentera
- C Memantapkan adat istiadat
- D Menjalin hubungan luar

16 Mata wang berikut wujud pada zaman Kesultanan Melayu.

- | |
|--|
| <ul style="list-style-type: none">• Kijang di Kelantan• Kupang di Johor |
|--|

Apakah kepentingan mata wang tersebut?

- I Melambangkan status seseorang pembesar
 - II Menggalakkan rakyat menyimpan wang
 - III Mengandungi maklumat pangkat sultan
 - IV Menuliskan gelaran Islam sultan
-
- A I dan II
 - B I dan IV
 - C II dan III
 - D III dan IV

17 Dialog berikut mungkin berlaku antara dua orang penganut agama Kristian pada abad ke-16 di Eropah.

John :	Saya banyak melakukan kesalahan. Saya ingin menebus dosa
David :	Boleh. Beli sahaja surat pengampunan dosa daripada gereja

Mengapakah Martin Luther menentang amalan tersebut ?

- A Penindasan terhadap rakyat berleluasa
- B Penyelewengan amalan agama
- C Peningkatan kadar jenayah
- D Pegangan agama longgar

18 Maklumat berikut berkaitan pemerintah di Eropah.

Negara	Tokoh
Sepanyol	Ferdinand Aragon
Portugal	Putera Henry

Berdasarkan jadual di atas, yang manakah berkaitan dengan tokoh tersebut?

- A Penerokaan kawasan Timur
- B Pelayaran mengelilingi dunia
- C Perebutan takhta pemerintahan
- D Peperangan semasa mazhab Kristian

[Lihat halaman sebelah

- 19 Jadual berikut berkaitan penguasaan pemodal China dalam sector perlombongan

Tahun	Pemodal China
1910	78%
1920	64%
1930	37%

Mengapakah penguasaan pemodal China dalam sektor perlombongan bijih timah merosot?

- A Gangguan kongsi gelap
 B Pengenalan kapal korek
 C Kekurangan tenaga mahir
 D Peningkatan kemasukan buruh
- 20 Jalan keretapi dan jalan raya banyak dibina di Tanah Melayu antara tahun 1885 hingga 1920.

Mengapakah kemudahan tersebut penting kepada Tanah Melayu

- I Perusahaan getah berkembang
 II Perlombongan bijih timah pesat
 III Perkembangan tanaman lada hitam
 IV Penemuan petroleum dan gas
- A I dan II
 B I dan IV
 C II dan III
 D III dan IV
- 21 Jadual menerangkan perubahan dalam bidang pentadbiran yang berlaku di Thailand pada abad ke-19.

Tokoh	Perubahan yang dibuat
Raja Mongkut	Melantik 80 orang penasihat British
Raja Chulalongkorn	Memperkenalkan Majlis Penasihat Rendah

Mengapakah perubahan tersebut dilakukan?

- A Memperkukuhkan sistem pemerintahan beraja
 B Memantapkan pentadbiran kerajaan
 C Memelihara kedaulatan Negara

- D Memenuhi tuntutan rakyat
- 22 Mengapakah kerajaan Belanda bersikap pilih kasih dalam menyediakan kemudahan pendidikan di Indonesia?
- A Menghalang perkembangan sekolah agama
 B Mengehendkan aktiviti budaya tempatan
 C Menyekat rakyat mendapat pekerjaan
 D Memecahbelahkan perpaduan rakyat

- 23 Tokoh berikut telah berjuang menentang penjajah.

- | |
|---|
| <ul style="list-style-type: none"> • Mat Salleh • Dato' Bahaman |
|---|

Mengapakah perjuangan mereka gagal ?

- A Senjata tidak lengkap
 B Tenaga tentera kurang
 C Kemudahan asas kurang
 D Sokongan pembesar tidak cukup
- 24 Maklumat berikut berkaitan dengan gerakan anti British di Tanah Melayu pada tahun 1940an.

Pertubuhan	Matlamat Perjuangan
A Kesatuan Melayu Muda	Menghalau penjajah British dari Tanah Melayu

akah tindakan yang diambil oleh pertubuhan tersebut untuk mencapai matlamat perjuangan?

- A Membantu perjuangan golongan kiri
 B Bergabung dengan kuasa Barat lain
 C Bekerjasama dengan pihak Jepun
 D Mendapatkan sokongan pembesar

[Lihat halaman sebelah

25 Senarai berikut adalah ciri-ciri sesuatu bangsa.

- | |
|--|
| <ul style="list-style-type: none">• Persamaan adat resam• Persamaan bidang kesenian• X |
|--|

Apakah X ?

- A Persamaan pandangan dunia
- B Persamaan bahasa pertuturan
- C Persamaan sistem kepercayaan
- D Persamaan dasar pemerintahan

26 Pada tahun 1911, Sultan Zainal Abidin III meluluskan perlembagaan yang dikenali sebagai Undang-Undang Tubuh Kerajaan Terengganu.

Mengapakah perlembagaan tersebut diluluskan ?

- A Meluaskan wilayah pengaruh
- B Mengekalkan kedaulatan negeri
- C Membentuk kerajaan demokrasi
- D Mengukuhkan hubungan dengan Siam

27 Sebagai rakyat yang cinta akan negara, mengapakah anda menentang Malayan Union?

- A Melemahkan golongan radikal
- B Meningkatkan kos pentadbiran
- C Mempertahankan tamadun bangsa
- D Kesukaran mendapatkan kerakyatan

28 Apakah manfaat yang diperoleh orang Melayu melalui Perjanjian Persekutuan Tanah Melayu 1948 ?

- A Kebebasan berpolitik
- B Menguasai pentadbiran
- C Menentukan kerakyatan
- D Kedudukan istimewa dilindungi

- 29 Pada bulan Februari 1952, UMNO Kuala Lumpur dan MCA telah menjalin kerjasama dalam bidang politik.

Apakah kesan kerjasama tersebut terhadap UMNO dan MCA ?

- A Ditentang hebat oleh Parti Kemerdekaan Malaya
- B Menang dalam pilihan raya majlis perbandaran
- C Mendapat bantuan kewangan daripada British
- D Gagal mendapat sokongan semua kaum

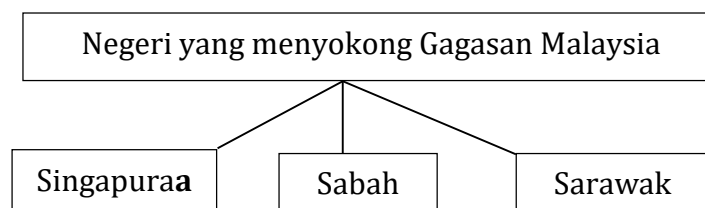
- 30 Maklumat berikut berkaitan dengan fungsi Suruhanjaya Reid.

- Merangka perlembagaan negara
- X

Apakah X ?

- A Membendung kegiatan komunis
- B Menetapkan sempadan antara negeri
- C Menetapkan kuasa Yang di-Pertuan Agong
- D Membentuk rupa bangsa di Tanah Melayu

- 31 Rajah berikut berkaitan dengan pembentukan Malaysia. .



Mengapakah negeri tersebut menyokong gagasan Malaysia

- A Menamatkan ancaman komunis
- B Memperkukuhkan amalan demokrasi
- C Mengelakkan campur tangan asing
- D Memenuhi desakan penduduk tempatan

[Lihat halaman sebelah


- 32 Apakah peranan Suruhanjaya Cobbold dalam menjayakan pembentukan Malaysia?
- A Memujuk Singapura menyerti persekutuan
 - B Menggalakkan penubuhan Parti Perikatan
 - C Melaksanakan sistem Birokrasi Barat
 - D Meninjau pendapat rakyat Sabah dan Sarawak
- 33 Mengapakah pembentukan parti politik di Malaysia lebih bersifat perkauman
- A Tertakluk dengan perlembagaan
 - B Mudah menyampaikan maklumat
 - C Menjaga kepentingan masing-masing
 - D Syarat-syarat daripada Suruhanjaya Pilihanraya
- 34 Maklumat berikut berkaitan kandungan Perlembagaan Malaysia.

Unsur taat setia kepada negara termaktub dalam Perkara 24 Perlembagaan Malaysia.
--

Berdasarkan maklumat di atas, apakah perkara yang membolehkan kerakyatan seseorang dilucutkan ?

- A Melanggar undang-undang
- B Bermastautin di negara lain
- C Tidak mentaati Rukun Negara
- D Mempunyai kerakyatan negara lain

35 Gambar berikut menunjukkan Jata Negara kita Malaysia.



Mengapakah jata tersebut penting kepada negara dan bangsa Malaysia?

- I Memperkukuh perpaduan rakyat
- II Melahirkan rakyat bersemangat waja
- III Mempertahan semangat kenegerian
- IV Melambangkan kemajuan ekonomi

- A I dan II
- B I dan IV
- C II dan III
- D III dan IV

36 Maklumat berikut berkaitan Dasar Kependudukan negara Malaysia.

Tahun	Perkara	Matlamat
1984	Dasar Kependudukan	Meningkatkan jumlah penduduk Malaysia menjadi 70 juta dalam tempoh 115 hingga 120 tahun

Mengapakah kerajaan melaksanakan dasar di atas ?

- I Mengimbangi kekuatan tentera negara jiran
- II Merapatkan jurang ekonomi antara kaum
- III Menambahkan bilangan tenaga kerja
- IV Meningkatkan pasaran keluaran barangan tempatan

- A I dan II
- B I dan IV
- C II dan III
- D III dan IV

[Lihat halaman sebelah

- 37 Laporan Rahman Talib 1960 diperkenalkan dengan penekanan kepada perpaduan kaum.

Antara berikut yang manakah syor laporan tersebut?

- I Aliran vokasional diperkenalkan
- II Bahasa Melayu sebagai bahasa pengantar sekolah menengah
- III Sekolah kebangsaan menggantikan sekolah umum
- IV Sistem persekolahan bercorak integrasi

- A I dan II
- B I dan IV
- C II dan III
- D III dan IV

- 38 Pernyataan berikut berkaitan dengan Prinsip Dasar Kebudayaan Kebangsaan

- Kebudayaan rakyat asal rantau melayu sebagai tunjang
- Unsur kebudayaan lain yang wajar dan sesuai diterima

Bagaimanakah objektif dasar tersebut boleh dicapai ?

- A Menghalang kemiskinan
- B Membangunkan prasarana
- C Memperkukuhkan perpaduan
- D Mempertingkatkan ekonomi negara

39 Blok dunia berikut terbentuk semasa Perang Dingin.

- Blok kapitalis
- Blok komunis

Apakah ciri blok kapitalis ?

- I Mengamalkan pemerintahan demokratik
- II Mengamalkan sistem satu parti
- III Memiliknegerakan perniagaan
- IV Menjamin kebebasan individu

- A I dan II
- B I dan IV
- C II dan III
- D III dan IV

40 Jadual berkaitan dengan Persatuan Negara-Negara Asia Tenggara (ASEAN)

Tahun	1971
Tempat	Kuala Lumpur
Peristiwa	Mesyuarat Menteri-Menteri Luar ASEAN

Apakah keputusan yang dicapai dalam mesyuarat tersebut ?

- A Penubuhan Pusat Kajian Bahasa Inggeris (RELC)
- B Pembentukan Perundingan Ekonomi Asia Timur (EAEC)
- C Pengisytiharan Zon Aman, Bebas dan Berkecuali (ZOPFAN)
- D Pembinaan Pusat Serantau untuk Sains dan Matematik (RECSAM)

KERTAS PEPERIKSAAN TAMAT