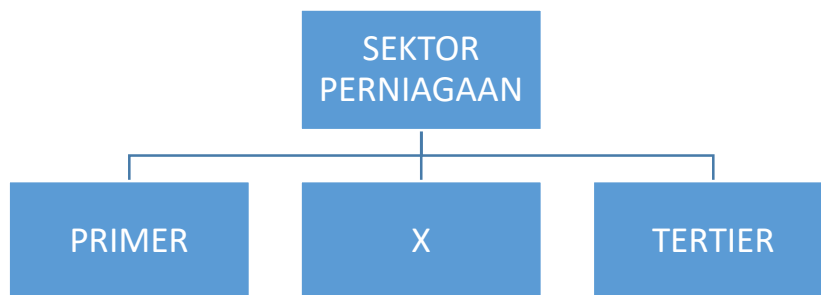


Arahan : *Tiap-tiap soalan di bawah ini diikuti oleh empat pilihan jawapan.. Bagi setiap soalan, pilih satu jawapan yang tepat atau yang paling sesuai.*

- 1 Berikut adalah tujuan sesuatu perniagaan itu wujud dalam masyarakat.
- A Penawaran barang dan perkhidmatan
 - B Mewujudkan peluang pekerjaan
 - C Menambahkan pendapatan negara
 - D Membantu masyarakat setempat
- 2 Apakah bentuk milikan perniagaan yang mempunyai ciri-ciri berikut:

- ❖ tidak dikenakan beban cukai
- ❖ pentadbiran secara demokrasi
- ❖ bantu keperluan anggota-anggotanya
- ❖ liabiliti terhad

- A Syarikat sendirian berhad
 - B Syarikat Awam Berhad
 - C Perkongsian
 - D Koperasi
- 3 Antara berikut, pilih kelebihan kepada peniaga yang menjalankan perniagaan secara usaha sama.
- I Dapat berkongsi kepakaran dan modal
 - II Semua aset akan diserapkan dalam perniagaan baru
 - III Risiko perniagaan dapat dikongsi bersama
 - IV Dapat meningkatkan pengeluaran
- A I, II dan III
 - B I, II dan IV
 - C I, III dan IV
 - D II, III dan IV
- 4 Rajah berikut mewakili sektor perniagaan.



Apakah X?

- I Kejuruteraan
- II Perkilangan
- III Perlombongan
- IV Perikanan

- A I dan II
- B I dan III

- C II dan III
- D III dan IV

5 Gambar berikut berkaitan dengan skala suatu perniagaan



Pilih pasangan yang betul.

	SKALA	SAIZ
A	Zon	Besar
B	Tempatan	Kecil
C	Negeri	Sederhana
D	Global	Besar

6 Pasangan manakah yang benar mengenai perniagaan bersaiz besar yang terlibat dalam sektor perkhidmatan?

	Jumlah jualan tahunan	Bilangan pekerja tetap
A	RM300,000 hingga kurang daripada 3 juta	5 hingga kurang daripada 30
B	RM20 juta ke atas	75 orang 2trate atas
C	RM3 juta hingga kurang daripada 20 juta	Antara 30 hingga 75 orang
D	RM3 juta hingga kurang daripada 20 juta	Antara 75 hingga 200 orang

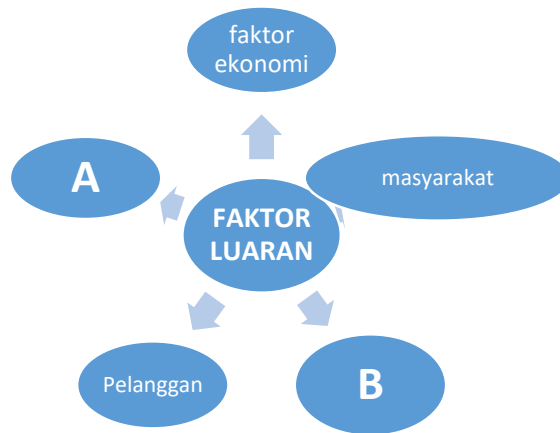
7 Antara berikut, yang manakah peranan yang dimainkan oleh pihak kerajaan dalam menangani isu-isu perniagaan?

- I Tingkat pertumbuhan ekonomi negara
- II Membantu mengurus sesebuah perniagaan yang bermasalah
- III Memantau dan kawal guna tenaga penuh
- IV Mengawal inflasi dan deflasi

- A I, II dan III
- B I, II dan IV

- C I, III dan IV
- D II, III dan IV

8 Rajah berikut merupakan faktor yang mempengaruhi trend perniagaan



Apakah A dan B?

	A	B
A	Gaya pengurusan	Sumber manusia
B	Pemasaran	Pengeluaran
C	Persaingan dan jaringan	Teknologi maklumat
D	Politik dan perundangan	Persaingan dan jaringan

9 Yang manakah merupakan isu yan perlu diatasi oleh pihak kerajaan tempatan?

- A Negara
- B Serantau
- C dua hala
- D tempatan

10 Pernyataan berikut berkaitan dengan strategi pemasaran.

“ Menyampaikan maklumat produk melalui pasukan jurujual kepada pengguna tentang ciri-ciri produk yang berkualiti supaya pengguna tertarik untuk membeli”

Pernyataan tersebut berkaitan dengan

- A Promosi dan harga
- B Promosi dan produk
- C Pengedaran dan produk
- D Pengedaran dan promosi

11 Apakah maksud visi?

- A Visi merupakan satu perancangan jangka panjang di dalam sesebuah organisasi
- B Visi merupakan satu perancangan jangka pendek di dalam sesebuah organisasi
- C Visi merupakan satu ketetapan menjelaskan aktiviti organisasi yang akan dilaksanakan untuk mencapai visi
- D Visi menyatakan maklumat tentang tujuan perniagaan dengan tepat dan khusus

- 12 Pernyataan objektif “ Keuntungan meningkat sebanyak 30% dalam tempoh 2 tahun.”
Nyatakan SMART yang ada dalam pernyataan objektif.
- A Boleh diukur dan spesifik
 - B Munasabah dan jangka masa
 - C Boleh diukur dan jangka masa
 - D Munasabah dan boleh diukur
- 13 Apakah kesan negatif yang wujud jika sesebuah perniagaan tidak membentuk objektif perniagaan yang sesuai?
- A Berlaku kerugian
 - B Sumber tidak diagih dengan betul
 - C Wawasan perniagaan tidak dapat dicapai
 - D Perniagaan tidak berada pada landasan yang betul
- 14 Mengapakah Syarikat Ummah Berhad perlu mempunyai daya saing yang tinggi dalam memasarkan produk makanan halal di Malaysia?
- A Dapat kekal dalam pasaran makanan halal
 - B Mengekalkan pelanggan makanan halal
 - C Terus menikmati keuntungan dalam industri makanan halal
 - D Perniagaan kekal mendapat pulangan modal sahaja
- 15 Mengapakah peningkatan jumlah pelaburan menyebabkan objektif organisasi perniagaan perlu diubah?
- A Sasaran pengeluaran perlu ditingkatkan supaya tidak berlaku pembaziran sumber
 - B Perlu memberi kadar dividen yang tinggi kepada pemegang saham
 - C Gaji pekerja perlu ditingkatkan untuk memberi motivasi
 - D Berlaku peningkatan permintaan produk
- 16 Apakah maksud struktur organisasi ?
- A Struktur jawatan pihak atasan
 - B Struktur pengagihan tugas pekerja
 - C Sistem pembahagian jawatan dan tugas dalam organisasi
 - D Susun atur dan interaksi yang wujud antara setiap bahagian fungsian
- 17 Antara yang berikut, manakah yang menunjukkan peranan bahagian fungsian pengeluaran?
- I Membuat pesanan pembelian
 - II Mencari pembekal yang sesuai
 - III Memenuhi keperluan dan kehendak
 - IV Menghasilkan barang dan perkhidmatan
- A I dan II
 - B I dan IV
 - C II dan III
 - D III dan IV

- 18 Maklumat berikut berkaitan dengan kelebihan penggunaan teknologi maklumat.

Sesebuah syarikat dapat mengembangkan pasarannya ke pasaran antarabangsa dengan adanya teknologi maklumat

- Bagaimanakah teknologi maklumat dapat membantu sesebuah perniagaan?
- A Mempercepatkan proses pengeluaran barang
B Mengedarkan risalah secara besar-besaran
C Memastikan produk yang dihasilkan mengikut standard yang betul
D Mempromosikan melalui laman web untuk memperkenalkan barang
- 19 Bagaimanakah interaksi dengan pihak bank membantu perniagaan mengatasi masalah operasi pengeluaran?
- A Mengatasi masalah kekurangan modal kerja
B Memudahkan urusan pembayaran perniagaan
C Memudahkan perniagaan membayar bil dan gaji pekerja
D Memudahkan perniagaan menyimpan wang dengan selamat
- 20 Antara yang berikut, yang manakah merupakan kebaikan perniagaan kecil berbanding dengan perniagaan besar?
- A Terdapat staf yang ramai bekerja dalam organisasi
B Terdapat banyak bahagian fungsian dalam organisasi
C Proses komunikasi yang mengambil masa yang lama
D Pengurus mudah menjalankan tugas memantau aktiviti staf
- 21 Antara yang berikut, yang manakah merupakan peranan pengurusan sumber manusia?
- I Pemantapan budaya strategik
II Membentuk persekitaran kerja yang positif dan harmoni
III Latihan peningkatan kemahiran
IV Menjaga sumber kewangan
- A I II dan III
B I II dan IV
C I III dan IV
D II III dan IV
- 22 Manakah ciri sumber fizikal yang melancarkan operasi sesebuah perniagaan?
- I Bangunan yang besar dan strategik
II Mesin yang diselenggara secara berkala
III Bahan mentah yang dibeli dengan kos yang tinggi
IV Bangunan yang selamat dan lengkap dengan kemudahan
- A I dan II
B I dan III
C II dan IV
D III dan IV
- 23 Apakah tujuan mengurus harta intelek?
- A Dapat menjimatkan kos penyelenggaraan harta intelek
B Mengelakkan syarikat daripada ancaman cetak rompak dan peniruan
C Dapat mencapai keuntungan dalam jangka masa pendek
D Dapat memudahkan sumber fizikal dan sumber teknologi

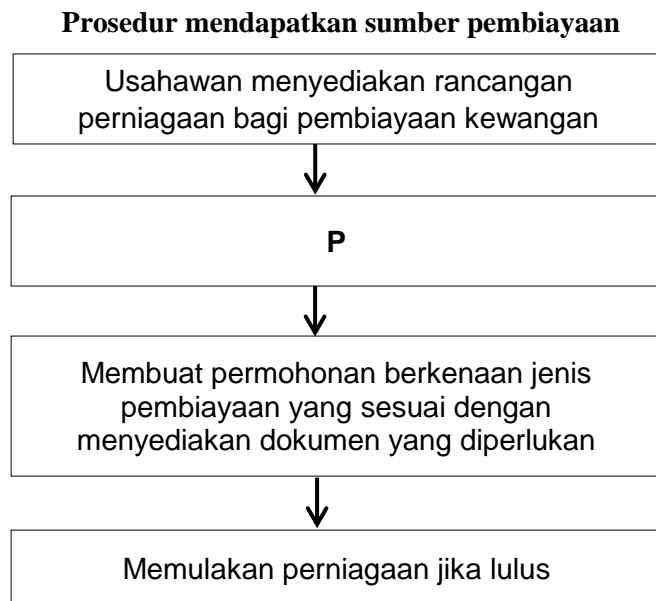
- 24 Apakah tindakan PERODUA yang sewajarnya untuk mengelakkan reka bentuk kereta ditiru oleh pesaing?
- A Memiliki lesen perisian
 - B Memiliki kemahiran dan pengalaman
 - C Memiliki hak cipta terpelihara
 - D Memiliki paten

- 25 Maklumat berikut berkaitan dengan rancangan Encik Hafiz.

Encik hafiz ingin menubuhkan sebuah syarikat pengeluaran kasut.

Apakah sumber pembiayaan yang sesuai untuk Encik Hafiz?

- A Simpanan sendiri
 - B Sahabat handai
 - C Ar-Rahnu
 - D Pinjaman bank
- 26 Rajah berikut menunjukkan prosedur mendapatkan sumber pembiayaan.



Apakah prosedur yang sesuai bagi **P**?

- A Membayar yuran yang sewajarnya
 - B Menyediakan asset tetap sebagai cagaran
 - C Berunding dengan pakar runding bagi mendapatkan khidmat nasihat menyemak jenis keperluan perniagaan yang diperlukan oleh usahawan
- 27 Apakah maksud penyata kewangan?
- A Satu bentuk laporan yang menunjukkan harta dan hutang perniagaan.
 - B Penyata yang menunjukkan strategi dan ekuiti pemilik perniagaan.
 - C Penyata yang menunjukkan punca perolehan dan penggunaan dana/tunai bagi suatu tempoh tertentu..
 - D Satu bentuk laporan yang menunjukkan kedudukan kewangan sesebuah perniagaan bagi suatu tempoh tertentu

28 Antara yang berikut, yang manakan dicatat dalam Kunci Kira-Kira?

- I Stok akhir
- II Overdraf bank
- III Stok awal
- IV Untung kasar

- A I dan II
- B I dan IV
- C II dan III
- D III dan IV

29 Antara yang berikut, yang manakah merupakan pihak berkepentingan yang memerlukan penyata kewangan perniagaan?

- I Pekerja
- II Pemegang saham
- III Pemiutang
- IV Penghutang

- A I dan II
- B I dan IV
- C II dan III
- D III dan IV

30 Maklumat berikut berkaitan dengan sebab pihak berkepentingan memerlukan penyata kewangan perniagaan.

Membuat keutusan untuk mengekalkan pelaburan mereka sekiranya prestasi dan kedudukan kewangan perniagaan adalah baik dan cemerlang

Apakah pihak berkepentingan itu?

- A Pemilik
- B Pelabur
- C Pembiaya
- D Pembekal

31 Maklumat berikut diperolehi daripada sebuah perniagaan.

	RM
Sewa diterima	1 200
Susut nilai mesin	800
Stok akhir	900
Untung kasar	8 000
Faedah dibayar	700
Komisen diterima	400

Berapakah untung bersih perniagaan itu?

- A RM9 000
- B RM8 100
- C RM7 200
- D RM9 700

32 Berikut merupakan maklumat nisbah semasa bagi sesebuah perniagaan untuk tahun 2015 dan 2016.

Tahun	Nisbah semasa
2015	1.5%
2016	2.1%

Tafsirkan prestasi perniagaan bagi tahun 2016 berbanding tahun 2015.

- A Prestasi perniagaan merosot dan tidak mampu membayar hutang.
- B kemampuan perniagaan membayar hutang dalam tempoh singkat telah meningkat.
- C Prestasi perniagaan telah merosot dan hanya mampu membayar hutang untuk tempoh masa panjang.
- D Risiko perniagaan telah meningkat dan pelaburan kurang memberi pulangan.

- 33 Maklumat berikut berkaitan dengan ciri-ciri keperibadian salah seorang usahawan yang berjaya di Malaysia.

Ramly Burger telah mengeluarkan produk halal, bersih dan bermutu. Idea menghasilkan daging burger terhasil kerana kebanyakan makanan sejuk beku tidak pasti halal haramnya, Encik Ramly tidak pernah putus asa walaupun usahanya pernah diperlekehkan oleh masyarakat. Dengan simpanan sendiri dan bantuan pinjaman daripada agensi kerajaan, kini beliau telah mempunyai 2 buah kilang pemerosesan di Kawasan Perindustrian Bandar Tun Razak dan di Taman Perindustrian IKS, Mukim Batu.

Berdasarkan pernyataan tersebut, apakah ciri-ciri keperibadian usahawan ini?

- A Semangat berpasukan
- B Kreatif dan Inovatif
- C Berani mengambil risiko
- D Berinisiatif dan bertanggungjawab

- 34 Antara berikut, yang manakah merupakan lokasi yang 8strategic?

- A banyak persaingan dengan peniaga
- B kemudahan paker yang terhad
- C kuasa beli penduduk yang tinggi
- D kos sewa premis yang tinggi.

- 35 Antara yang berikut, yang manakah keberuntungan perniagaan kepada seseorang usahawan?

- I Mengecilkan pasaran
- II Memantapkan imej perniagaan
- III Mendapatkan sumber manusia yang mempunyai kepakaran dan ilmu
- IV Penggunaan peralatan dan teknologi terkini

- A I dan II
- B II dan III
- C I dan III
- D II dan IV



- Mengapakah Encik Zulkifli , pemilik perniagaan tersebut tidak perlu membuat permohonan kelulusan nama?
- A Menggunakan nama sendiri untuk perniagaan
 B Modal tidak mencukupi untuk memulakan perniagaan
 C belum melengkapkan Borang PNA 42
 D belum melengkapkan Borang D
- 37 Dokumen tersebut dikeluarkan oleh pihak bank kepada pemegang akaun semasa yang menyenaraikan semua urus niaga yang dibuat melalui bank.
- A Cek
 B Bil tunai
 C Penyata bank
 D Slip daftar tunai
- 38 Berikut merupakan contoh Penyata Aliran Tunai bagi sebuah perniagaan yang tidak lengkap.

Syarikat Indah Sdn. Bhd
 Penyata Aliran Tunai bagi satu bulan berakhir 28 Februari 2003

Butiran	Jun(RM)
Baki b/b	
<u>PENERIMAAN</u>	
P	
Q	
Jumlah penerimaan	
<u>PEMBAYARAN</u>	
R	
S	
Jumlah pembayaran	
Lebihan/(kurangan)	
Baki h/b	

RESIT RASMI ASAL
No. 1102

SYARIKAT INDAH SDN BHD
198, Jalan 219,
Putatan Point,
88200 Putatan, Sabah
Tel: 088-764432 Faks: 088-764503
E-mail: inquiry@isi.com.my

Tarikh: 18 Februari 2003

Diterima daripada: KEDAI KASUT ASZUAN
Ringgit Malaysia: EMPAT RATUS ENAM PULUH EMPAT SAHAJA
Untuk bayaran: Untuk menjelaskan sepenuhnya Invois
No. 1233

RM484.00

Manan
Pegurus

Tanah / No. Cek: 8C834342

BAUCAR ASAL
No. 08/X3

SYARIKAT INDAH SDN BHD
198, Jalan 219,
Putatan Point,
88200 Putatan, Sabah
Tel: 088-764432 Faks: 088-764503
E-mail: inquiry@isi.com.my

Kepada: Enik Azman Bin Mohd Ali Tarikh: 18 Februari 2003

Bil.	Keterangan	Jumlah
1	Pembayaran gaji bagi bulan Januari 20X3. No. Cek: 10246	RM 420.00
JUMLAH		RM 420.00

Ringgit Malaysia: Empat Ratus Dua Puluh sahaja

Manan
Diluluskan oleh

Agamari
Tandatangan Peminta

BANK GEMILANG BERHAD SLIP WANG TUNAI MASUK

Tarikh: 14 Februari 2003

No. Akaun		2 8 9 4 7 3 2 0 1 2 1	
Nama		SYARIKAT INDAH SDN BHD	
Bank Pembayar	No. Cek	Tempat	RM Jumlah Sen
Tunai			1 0 0 0 0 0

KURUNGAN PEJABAT SAHAJA
2-89473281-21 RM1 000.00 KT
148228X3 13:45 Ros

Ros
T.T.

BIL TUNAI ASAL
No. 1213

SYARIKAT INDAH SDN BHD
198, Jalan 219,
Putatan Point,
88200 Putatan, Sabah
Tel: 088-764432 Faks: 088-764503
E-mail: inquiry@isi.com.my

Kepada: En. Arinagaga Tarikh: 22 Februari 2003

Bil.	Item	Kuantiti (unit)	Harga Satuan (RM)	Jumlah (RM)
1	Kasut Waja	2 pasang	15.00	30.00
2	Kasut Hitam	1 pasang	10.00	10.00
Jumlah Bercak				40.00

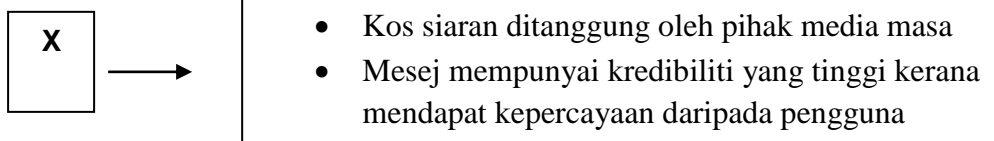
Ringgit Malaysia: Empat Puluh sahaja

Manan
Tandatangan Peminta

Berdasarkan dokumen-dokumen tersebut, tentukan dokumen yang mewakili P,Q,R dan S yang dicatat di dalam Penyata Aliran di atas.

	P	Q	R	S
A	Resit Rasmi	Slip wang masuk	Bil Tunai	Baucar
B	Resit Rasmi	Bil Tunai	Slip wang masuk	Baucar
C	Bil Tunai	Baucar	Slip wang masuk	Resit rasmi
D	Bil Tunai	Slip wang masuk	Resit rasmi	Baucar

39 Rajah berikut menunjukkan salah satu kaedah promosi.



Apakah X ?

- | | |
|-------------------|------------------|
| A Pengiklanan | C Promosi jualan |
| B Jualan langsung | D Publisiti |

40 Pernyataan manakah yang merupakan kepentingan menyediakan rancangan perniagaan?

- A memastikan usahawan berani mengambil risiko dalam dunia perniagaan.
- B memastikan usahawan membuat perancangan dengan teliti terhadap keperluan sumber perniagaan
- C memastikan usahawan tahu hala tuju perniagaan dengan betul.
- D memastikan usahawan dapat menyediakan laporan kewangan dengan baik.